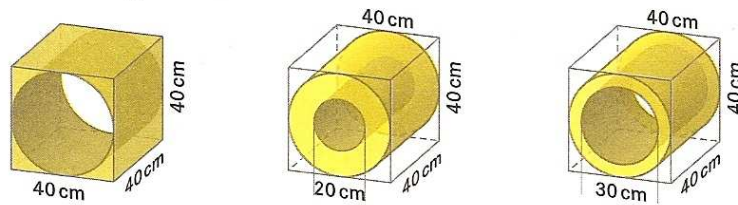


Wir skizzieren alle Risse eines Körpers:

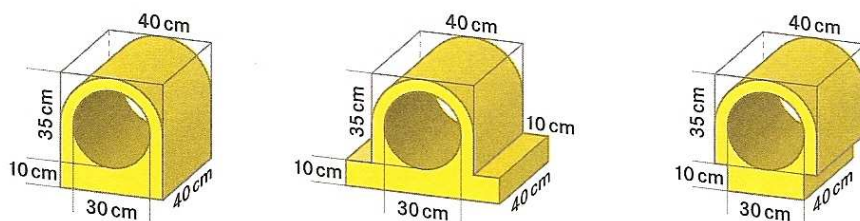
J131 Wähle jeweils ein Rohr- bzw. Rinnenmodell aus und zeichne drei wesentliche Ansichten maßstäblich: von vorne (Querschnitt), von einer Seite und von oben. Vergleiche eure Ergebnisse.



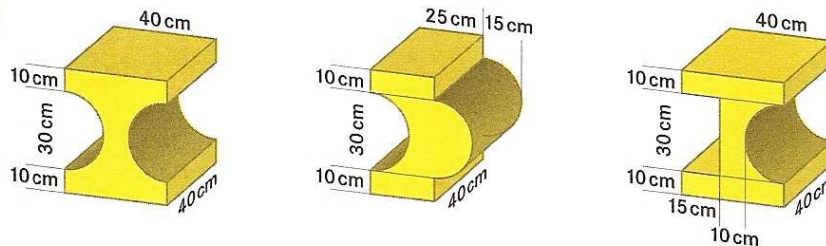
a



b

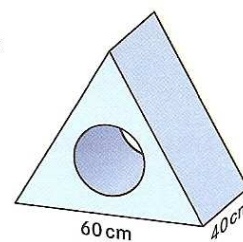


c



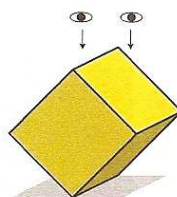
J132

Der Querschnitt des Rohrelementes ist ein gleichseitiges Dreieck. Der Innendurchmesser des Lochs misst 30 cm. Zeichne die Ansichten von vorne, von einer Seite und von oben.



J133 Ein Würfel balanciert **a** auf einer Kante.

Skizziere und beschreibe die Ansicht von oben.



b auf einer Ecke.

